

Fractions : Opérations

COMPÉTENCES EXIGIBLES

- ◆ Ecrire un nombre décimal sous forme fractionnaire.
- ◆ Réduction d'une fraction.
- ◆ Exprimer une fraction par différentes écritures fractionnaires.
- ◆ Comparer, additionner et soustraire deux nombres en écriture fractionnaire dans le cas où :
 - ◆ Les dénominateurs sont les mêmes ;
 - ◆ Le dénominateur de l'un est multiple du celui de l'autre.
- ◆ Effectuer le produit de deux fractions.
- ◆ Ramener le dénominateur décimal à un dénominateur entier.

EXTENSIONS

- ◆ Factorisation et développement.
- ◆ Les équations.
- ◆ Les nombres rationnels.
- ◆ Théorème de Thalès.

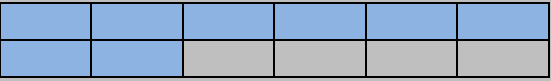
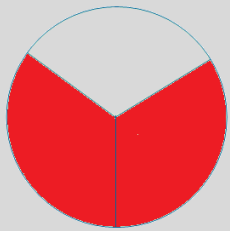
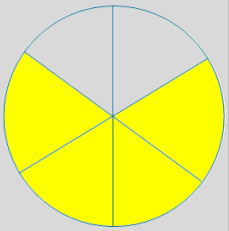
ORIENTATIONS PEDAGOGIQUES

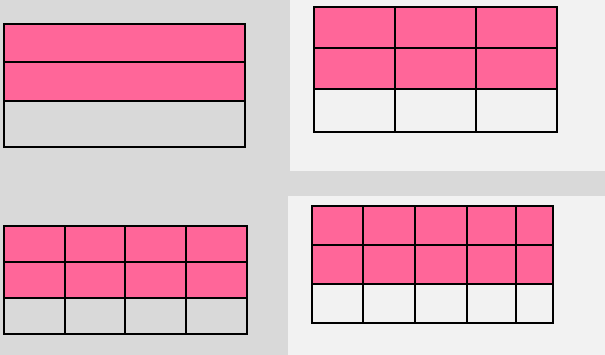
Les fractions sont des acquis de l'école primaire. Mais certaines difficultés peuvent subsister et réapparaître au collège. Au collège, il s'agit de consolider ces acquis, d'ancrer le sens des fractions et de l'écriture fractionnaire des nombres. Il s'agit aussi d'introduire une nouvelle conception des fractions et de renforcer le sens et les calculs sur les fractions. L'écriture fractionnaire a en effet deux significations : a/b , c'est le quotient de a par b ; mais a/b c'est aussi $a \times 1/b$. dans le premier cas a/b est conçu comme une proportion, dans le second cas a/b est un nombre à part entière.

L'utilisation d'une écriture fractionnaire pour exprimer une proportion, une fréquence est à relier à la notion de quotient. Dans le traitement mathématique des problèmes de la vie courante, les fractions interviennent rarement en tant que nombre. L'utilisation des nombres décimaux est souvent suffisante et doit être privilégiée.



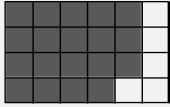
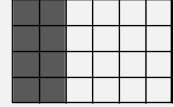
PREREQUIS


- ◆ Les opérations sur les nombres entiers et décimaux.
- ◆ Les multiples et les diviseurs.
- ◆ Les fractions.
- ◆ Les critères de divisibilités.

Objectif	Activités	Contenu de cours	Applications
<p>Exprimer un nombre sous forme d'écriture fractionnaire</p>	<p>Activité 1 : Recopie puis complète les phrases suivantes :</p>  <p>Figure1</p>  <p>Figure 2</p>  <p>Figure 3</p> <ol style="list-style-type: none"> 1- L'aire de la région bleue représente de l'aire totale 2- L'aire de la région rouge représente..... de l'aire totale 3- L'aire de la région jaune représente..... de l'aire totale 	<p>I- Une fraction :</p> <p>1- Définition :</p> <p>► a et b sont deux nombres décimaux avec b ≠ 0; $\frac{a}{b}$ est le quotient de a par b. On dit que $\frac{a}{b}$ est une écriture fractionnaire du quotient a ÷ b. a est le numérateur et b est le dénominateur :</p> <div style="border: 1px solid black; padding: 5px; margin: 10px 0;"> $\frac{\text{le numérateur}}{\text{le dénominateur}}$ <p style="text-align: right; margin: 0;">Trait de fraction</p> </div> <p>► Si a et b sont deux entiers naturels avec b ≠ 0 ; on dit que $\frac{a}{b}$ est une fraction.</p> <p>Exemples : $\frac{11}{2}$; $\frac{3}{7}$; $\frac{9}{2}$ sont des fractions. $\frac{2,5}{3}$ et $\frac{1,7}{5,9}$ sont des écritures fractionnaires</p> <p>Remarques:</p> <ul style="list-style-type: none"> ◆ Tous les entiers sont des fractions: Par exemple : 3 est une fraction, car : $3 = \frac{3}{1} = \frac{6}{2} = \dots$ ◆ Tous les décimaux sont des fractions : Par exemple: 4,5 et 0,241 sont des fractions, car : $4,5 = \frac{45}{10} \text{ et } 0,241 = \frac{241}{1000}$	

Objectif	Activités	Contenu de cours	Applications
<p>Réduction d'une fraction</p>	<p style="text-align: center;"><u>Activité 2 :</u></p> <p style="text-align: center;">On considère 4 rectangles symétriques :</p> <div style="display: flex; justify-content: space-around;">  </div> <p>1-Exprime par des fractions la partie coloriée de chaque rectangle.</p> <p>2-Compare ces fractions.</p>	<p style="text-align: center;">II-Egalité de fractions :</p> <p style="text-align: center;">Propriété :</p> <p>Exemples:</p> $\frac{10}{35} = \frac{2 \times 5}{5 \times 7} = \frac{2}{7} \quad \left \quad \frac{15}{9} = \frac{3 \times 5}{3 \times 3} = \frac{5}{3}$ $\frac{24}{16} = \frac{24 \div 8}{16 \div 8} = \frac{3}{2} \quad \left \quad \frac{128}{132} = \frac{128 \div 4}{132 \div 4} = \frac{32}{33}$ <p>Remarque:</p> <p>► Simplifier une fraction c'est l'écrire avec de plus petits numérateur et dénominateur entiers possibles. On dit Alors qu'elle est irréductible.</p> <p>Dans les exemples ci-dessus: $\frac{2}{7}$, $\frac{5}{3}$, $\frac{1}{9}$ et $\frac{32}{33}$ sont des fractions irréductibles.</p>	<p>Exercice:</p> <p>1-Complète les égalités suivantes :</p> $\frac{4}{5} = \frac{16}{\dots} ; \frac{18}{27} = \frac{\dots}{3}$ $\frac{12}{28} = \frac{\dots}{7} ; \frac{9}{63} = \frac{1}{\dots}$ $\frac{5}{9} = \frac{15}{\dots}$ <p>2-Trouve le nombre manquant :</p> $\frac{3}{7} = \frac{6}{\dots} = \frac{30}{28} = \frac{\dots}{49} = \frac{\dots}{\dots}$ $\frac{300}{\dots} = \frac{9}{21} = \frac{\dots}{\dots}$ $\frac{5}{2} = \frac{25}{\dots} = \frac{\dots}{4} = \frac{15}{\dots} = \frac{\dots}{\dots}$ $\frac{\dots}{20} = \frac{45}{\dots} = \frac{\dots}{10}$

Objectif	Activités	Contenu de cours	Applications
		<p>Ramener le dénominateur décimal à un dénominateur entier:</p> <p>Règle : Pour rendre le dénominateur décimal d'une écriture fractionnaire à un dénominateur entier, on élimine la virgule en multipliant le numérateur et le dénominateur par 10, 100, 1000...</p> <p>Exemples :</p> $\frac{3}{0,75} = \frac{3 \times 100}{0,75 \times 100} = \frac{300}{75} \quad ; \quad \frac{0,61}{2,5} = \frac{0,61 \times 10}{2,5 \times 10} = \frac{6,1}{25}$ <p>Remarques:</p> <p>► Lorsqu'on multiplie un nombre décimal par 10, 100, 1000,... on déplace la virgule de 1 ; 2 ; 3 ... rangs vers la droite .</p> <p>Exemples : $28,76 \times 10 = 287,6$ $5,12 \times 100 = 512$</p> <p>► Lorsque les chiffres décimaux ne sont pas en assez grand nombre, on se sert de zéros.</p> <p>Exemples : $7,5 \times 100 = 750$; $7,5 \times 1\,000 = 7\,500$</p>	<p>Exercice :</p> <p>Rends le dénominateur Un nombre entier :</p> $\frac{4}{2,09} ; \frac{11,8}{6,7} ; \frac{0,5}{2,24}$ $\frac{7,01}{0,008} ; \frac{0,34}{4,7}$

Objectif	Activités	Contenu de cours	Applications
Comparaison de deux fractions	<p style="text-align: center;">Activité3 :</p> <p>1-Indique la fraction de surface correspondant à la partie colorée :</p> <div style="display: flex; justify-content: space-around; align-items: center;"> <div style="text-align: center;"> <p>Grille A</p>  </div> <div style="text-align: center;"> <p>Grille B</p>  </div> </div> <div style="display: flex; justify-content: space-around; align-items: center; margin-top: 20px;"> <div style="text-align: center;"> <p>Grille C</p>  </div> <div style="text-align: center;"> <p>Grille D</p>  </div> </div> <p>2-Quelle est la partie la plus coloriée ?</p> <p style="text-align: center;">Activité 4 :</p> <p>Ahmed a mangé $\frac{1}{3}$ d'une tarte, Ali en a mangé $\frac{1}{6}$ et Maryem en a mangé $\frac{1}{12}$.</p> <p>Qui en a mangé le plus ? Qui en a mangé le moins ?</p>	<p style="text-align: center;">III- Comparaison de deux fractions :</p> <p>1. Les deux fractions ont le même numérateur : Si deux fractions ont le même numérateur, la plus grande est celle qui a le dénominateur le plus petit. Exemples :</p> $\frac{14}{8} < \frac{14}{3} \quad ; \quad \frac{1}{6} > \frac{1}{15}$ <p>2. Les deux fractions ont le même dénominateur : Si deux fractions ont le même dénominateur, la plus grande est celle qui a le plus grand numérateur. Exemples :</p> $\frac{19}{7} > \frac{17}{7} \quad ; \quad \frac{21}{5} < \frac{94}{5}$ <p>3. Comparer une fraction par rapport à 1 :</p> <p>-Une fraction, dont le numérateur est plus petit que le dénominateur, est plus petite que 1.</p> <p>Exemple : $\frac{51}{53} < 1$</p> <p>-Une fraction, dont le numérateur est plus grand que le dénominateur, est plus grande que 1.</p> <p>Exemple : $\frac{2019}{2018} > 1$</p>	<p>Exercice : Compléter par l'un des signes < ou ></p> $\frac{1}{2} \dots \frac{5}{2} \quad ; \quad \frac{5}{7} \dots \frac{5}{9}$ $\frac{12}{3} \dots \frac{1}{3} \quad ; \quad \frac{15}{6} \dots \frac{5}{4}$ $\frac{6}{8} \dots \frac{6}{16} \quad ; \quad \frac{12}{11} \dots \frac{6}{5}$ $\frac{11}{3} \dots 1 \quad ; \quad \frac{5}{7} \dots 1$ $\frac{6}{1,3} \dots 1 \quad ; \quad \frac{7}{3} \dots 1$ $1 \dots \frac{5}{8} \quad ; \quad 2 \dots \frac{5}{9}$ $\frac{6}{4} \dots \frac{5}{12}$

Objectif	Activités	Contenu de cours	Applications
<p style="text-align: center;">Addition et soustraction de deux fractions</p>	<p style="text-align: center;">Activité 5 :</p> <p>1- a- Représente par une fraction l'aire rouge</p> <p>b- Représente par une fraction l'aire bleue</p> <p>c- Représente par une fraction puis par les deux fractions précédentes les deux aires.</p> <div style="text-align: center;">  </div>	<p style="text-align: center;">IV- Addition et soustraction de deux fractions</p> <p>1. Additionner (ou Soustraire) deux fractions ayant le même dénominateur :</p> <p style="text-align: center;">Règle 1</p> <p>Pour calculer la somme (ou la différence) de deux fractions ayant le même dénominateur :</p> <ul style="list-style-type: none"> on additionne (ou on soustrait) les deux numérateurs. on conserve leur dénominateur commun. <p>Autrement écrit : $\frac{a}{b} + \frac{c}{b} = \frac{a+c}{b}$ $\frac{a}{b} - \frac{c}{b} = \frac{a-c}{b}$</p> <p>Exemples</p> $\frac{11}{5} + \frac{7}{5} = \frac{11+7}{5} = \frac{18}{5} \quad \left \quad \frac{27}{9} - \frac{19}{9} = \frac{27-19}{9} = \frac{8}{9}$ <p>2. Additionner (ou Soustraire) deux fractions ayant des dénominateurs différents :</p> <p style="text-align: center;">Règle 2</p> <p>On réduit les fractions au même dénominateur puis on ajoute ou on soustrait les numérateurs obtenus en appliquant la règle 1.</p> <p>Exemples :</p> $\frac{5}{7} + \frac{11}{21} = \frac{15}{21} + \frac{11}{21} = \frac{15+11}{21} = \frac{26}{21} \quad \left \quad \frac{13}{3} - \frac{7}{9} = \frac{39}{9} - \frac{7}{9} = \frac{39-7}{9} = \frac{32}{9}$ $\frac{9}{12} + \frac{7}{8} = \frac{18}{24} + \frac{21}{24} = \frac{18+21}{24} = \frac{39}{24} \quad \left \quad \frac{12}{11} - \frac{3}{6} = \frac{72}{66} - \frac{33}{66} = \frac{39}{66}$	<p>Exercice : Calcule et simplifie (si c'est possible) la fraction obtenue :</p> $\frac{25}{7} + \frac{6}{7} ; \frac{22}{3} + \frac{2}{3}$ $\frac{8}{2} + \frac{8}{2} ; \frac{23}{11} - \frac{10}{11}$ $\frac{35}{42} - \frac{26}{42}$ <p>Exercice : Calcule et simplifie (si c'est possible) la fraction obtenue :</p> $\frac{7}{8} + \frac{2}{6} ; \frac{9}{5} + \frac{3}{2}$ $\frac{5}{3} + \frac{7}{11} ; \frac{40}{16} - \frac{5}{8}$ $\frac{2}{7} - \frac{12}{49} ; \frac{7}{2} - \frac{3}{5}$

Objectif	Activités	Contenu de cours	Applications
<p>Multiplication de deux fractions</p>	<p>4-</p>	<p>V- Multiplication et division de deux fractions :</p> <p>1-Multiplication de deux fractions :</p> <p>Règle :</p> <p>Le produit de deux fractions est la fraction dont :</p> <ul style="list-style-type: none"> le numérateur est le produit des deux numérateurs des deux facteurs. le dénominateur est le produit des deux dénominateurs de deux facteurs. <p>Autrement écrit :</p> $\frac{a}{b} \times \frac{c}{d} = \frac{a \times c}{b \times d}$ <p>Exemples :</p> $\frac{11}{5} \times \frac{7}{2} = \frac{11 \times 7}{5 \times 2} = \frac{77}{10}$ $\frac{4}{3} \times \frac{8}{3} = \frac{4 \times 8}{3 \times 3} = \frac{32}{9}$ $\frac{3}{10} \times 7 = \frac{3}{10} \times \frac{7}{1} = \frac{3 \times 7}{10 \times 1} = \frac{21}{10}$	<p>Exercice :</p> <p>Calcule et simplifie (si c'est possible) la fraction obtenue :</p> $\frac{1}{2} \times \frac{4}{3} ; \frac{7}{2} \times \frac{81}{10}$ $\frac{36 \times 124}{12 \times 42} ; \frac{4}{8} \times \frac{74}{3}$

Objectif	Activités	Contenu de cours	Applications				
Division de deux fractions	<p style="text-align: center;">Activité 7 :</p> <p>On considère le rectangle suivant :</p> <table border="1" style="width: 100%; height: 100px; margin: 10px 0;"> <tr> <td style="width: 25%;"></td> <td style="width: 25%;"></td> <td style="width: 25%;"></td> <td style="width: 25%;"></td> </tr> </table> <ol style="list-style-type: none"> 1- Colorie $\frac{3}{4}$ du rectangle. 2- Divise la partie colorie aux deux parties égales. 3- Que représente chaque partie pour l'aire totale 4- Déduisez la valeur de $\frac{3}{4} : 2$ 5- Calcule $\frac{3}{4} \times \frac{1}{2}$ 6- Qu'observez-vous ? 					<p style="color: green;">2-Division de deux fractions :</p> <p>Définition:</p> <p>L'inverse de la fraction $\frac{a}{b}$ est la fraction $\frac{b}{a}$.</p> <p>Exemples :</p> <ul style="list-style-type: none"> - L'inverse de $\frac{5}{2}$ est la fraction $\frac{2}{5}$ - L'inverse de 7 est la fraction $\frac{1}{7}$ <p>Règle :</p> <p>La division de deux fractions c'est la multiplication de la première fraction par l'inverse de la deuxième.</p> <p>Autrement dit :</p> $\frac{\frac{a}{b}}{\frac{c}{d}} = \frac{a}{b} \div \frac{c}{d} = \frac{a}{b} \times \frac{d}{c} = \frac{a \times d}{b \times c}$ <p>→ La règle permet donc de transformer une division de fraction en une multiplication.</p> <p>Exemples :</p> $\frac{1}{2} : \frac{3}{4} = \frac{1}{2} \times \frac{4}{3} = \frac{1 \times 4}{2 \times 3} = \frac{4}{6} = \frac{2}{3}$ $\frac{5}{2} \div \frac{6}{7} = \frac{5}{2} \times \frac{7}{6} = \frac{5 \times 7}{2 \times 6} = \frac{35}{12}$	<p>Exercice :</p> <p>Calcule et simplifie (si c'est possible) la fraction obtenue :</p> $\frac{7}{2} \div \frac{3}{4} ; \quad \frac{2}{5} \div \frac{3}{5}$ $9 \div \frac{3}{11} ; \quad \frac{8}{7} \div 3$